

" به نام خدا "

آزمون مدادو کاغذی درس: ریاضی <آموزش و پرورش شهرستان گلوگاه> پایه دوم دبستان

آموزگار: خانم قلعه سری *دبستان دخترانه گل یاس* ارزشیابی دی ماه

نام و نام خانوادگی: سال تحصیلی: ۱۴۰۱-۱۴۰۲ تاریخ: ۱۴۰۱/۱۰/۱۷

هدف آزمون: آشنایی با الگوها، عددنویسی (دو رقمی و سه رقمی)، جمع و تفریق، اشکال هندسی، زمان و ساعت، تقریب، ارزش پول و جدول ارزش مکانی

۱- عزیزم! الگوهای عددی زیر را ادامه دهید.

۳ - ۷ - ۱۱ - - - - - - -

۲ - ۵ - ۹ - ۱۴ - - - - - -

۲- قبل و بعد عدد های زیر را بنویسید.

	۱۶۳	
--	-----	--

	سی و پنج	
--	----------	--

	۴۰۰	
--	-----	--

	چهل و هشت	
--	-----------	--

۳- کلمه! حاصل جمع های زیر را پیدا کنید.

$$۲۰ + ۱۰ + ۵ + ۱۰ + ۵ + ۶ + ۲۰ =$$

$$\begin{array}{r} ۶۱ \\ + ۲۵ \\ \hline \end{array}$$

$$۵۰$$

$$+ ۲۸$$

روش فرآیندی

(قارچی)

نام و نام خانوادگی:

* پایه دوم دبستان دخترانه گل یاس *

ارزشیابی دی ماه ۱۴۰۱

آزمون مداد و کاغذی درس: ریاضی

آموزگار: خانم قلعه سری

۴- دخترم! تفریق های زیر را انجام دهید.

$$۹۰ - ۴۰ = \dots\dots$$

$$۶۰ - ۲۰ = \dots\dots$$

۸۲

۷۶

روش فرآیندی

- ۳۶

- ۲۳


(قارچی)

۵- شباهت و تفاوت های دو شکل زیر را بنویسید.



تفاوت:

.....



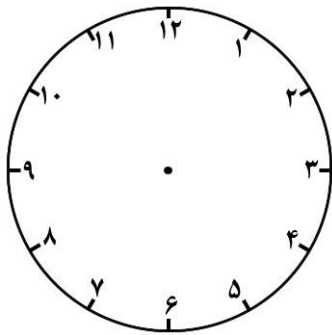
شباهت:

.....

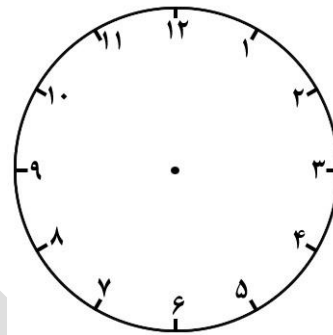
۶- نازنینم! با کارت های ۴,۰,۶ تمام عددهای سه رقمی را بسازید و بنویسید.

.....

۷- دلبندم! برای ساعت های زیر عقربه بکشید.

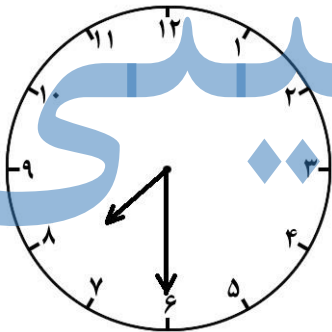


۴:۵۰



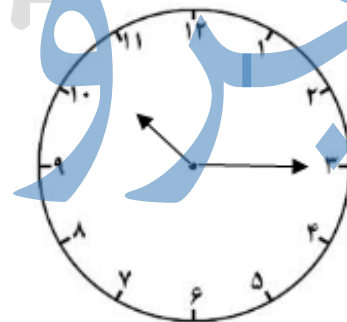
۱۲:۳۵

۸- زمانی را که ساعت های زیر نشان می دهد ، به دو صورت بنویسید.



..... :

.....



..... :

.....

۹- گلم! حاصل جمع و تفریق ها را با تقریب زدن به دست آورید.

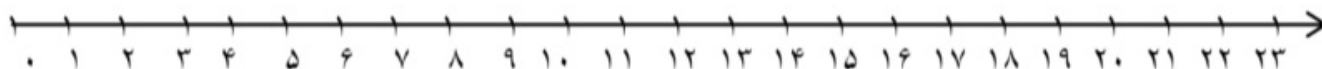
۷۳ →

۵۵ →

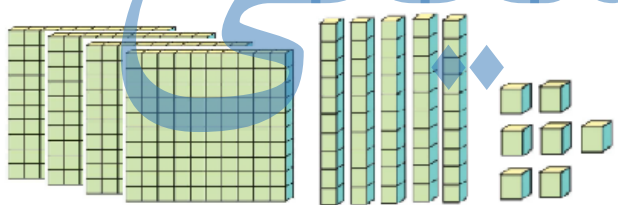
- ۴۶ → -

+ ۲۸ → +

۱۰- در یک اتوبوس ۱۴ نفر نشسته اند. در ایستگاه بعدی ۷ نفر دیگر سوار اتوبوس شدند و در ایستگاه بعد ۵ نفر از اتوبوس پیاده شدند. حالا چند نفر در اتوبوس نشسته اند؟ (به کمک محور)




۱۱- جدول را کامل کنید و به عدد و حروف بنویسید.



صدگان	دهگان	یکان

به عدد:

به حروف:



صدگان	دهگان	یکان

به عدد:

به حروف:



باز خورد معلم برای من:

موفق باشید- قلعه سری

" به نام خدا "

پایه دوم دبستان

<آموزش و پرورش شهرستان گلوگاه>

پاسخ سوالات

ارزشیابی دی ماه

دبستان دخترانه گل یاس

آزمون مدادو کاغذی درس: ریاضی

تاریخ: ۱۴۰۱/۱۰/۱۷

سال تحصیلی: ۱۴۰۱-۱۴۰۲

آموزگار: خانم قلعه سری

پاسخ سوال ۱ :

۳-۷-۱۱-۱۵-۱۹-۲۳-۲۷-۳۱-۳۵

۲-۵-۹-۱۴-۲۰-۲۷-۳۵-۴۴-۵۴.

پاسخ سوال ۲ :

۱۶۲	۱۶۳	۱۶۴
۳۹۹	۴۰۰	۴۰۱

سی و شش	سی و پنج	سی و چهار
چهل و نه	چهل و هشت	چهل و هفت

پاسخ سوال ۳ :

$$۲۰ + ۱۰ + ۵ + ۱۰ + ۵ + ۶ + ۲۰ = ۷۶$$

$$\begin{array}{r} ۶۱ \\ + ۲۵ \\ \hline ۸۱ \\ + ۵ \\ \hline ۸۶ \end{array}$$

$$\begin{array}{r} ۵۰ \\ + ۲۸ \\ \hline ۷۰ \\ + ۸ \\ \hline ۷۸ \end{array}$$

پاسخ سوال ۴:

$$90 - 40 = 50$$


$$60 - 20 = 40$$

$$\begin{array}{r} 82 \\ - 36 \\ \hline 52 \\ - 6 \\ \hline 46 \end{array}$$

$$\begin{array}{r} 76 \\ - 23 \\ \hline 56 \\ - 2 \\ \hline 54 \end{array}$$

(به روش قارچی)

پاسخ سوال ۵:



تفاوت: در شکل ۲، همه ی ضلع ها با هم برابر هستند، اما در شکل ۱

ضلع های رو به رو به دو به دو با هم برابرند.

شباهت: هر دو شکل ۴ ضلع و ۴ گوشه دارند.

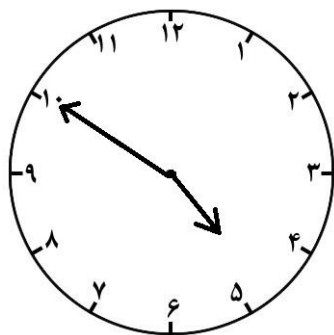
پاسخ سوال ۶:

$$640 - 604 - 460 - 406$$

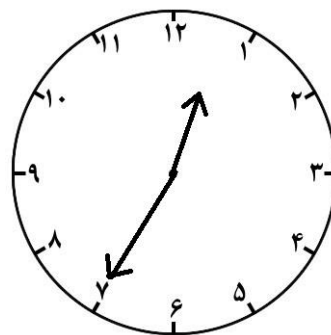
آزمون مداد و کاغذی درس: ریاضی

آموزگار: خانم قلعه سری

پاسخ سوال ۷:

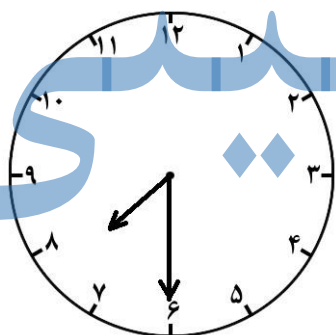


۴:۵۰



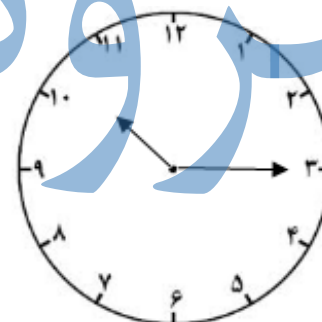
۱۲:۳۵

پاسخ سوال ۸:



۷:۳۰

ساعت هفت و نیم است.



۱۰:۱۵

ساعت ده و ربع است.

پاسخ سوال ۹:

$$\begin{array}{r} 7 \\ - 43 \\ \hline \end{array} \longrightarrow \begin{array}{r} 70 \\ - 40 \\ \hline 30 \end{array}$$

$$\begin{array}{r} 55 \\ + 28 \\ \hline \end{array} \longrightarrow \begin{array}{r} 60 \\ + 30 \\ \hline 90 \end{array}$$

پاسخ سوالات

* پایه دوم دبستان دخترانه گل یاس *

ارزشیابی دی ماه ۱۴۰۱

آزمون مداد و کاغذی درس: ریاضی

آموزگار: خانم قلعه سری

پاسخ سوال ۱۰ :

۱۶ نفر در اتوبوس نشسته اند.

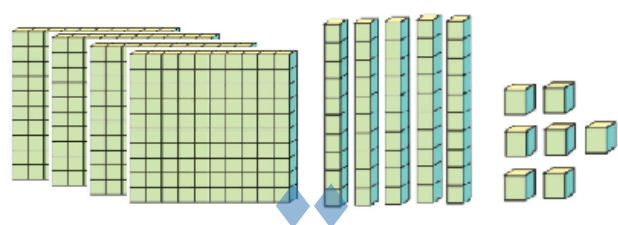
$$۱۴+۷-۵=۱۶$$

پاسخ سوال ۱۱ :

به عدد: ۴۵۷

به حروف: چهارصد و پنجاه

و هفت



یکان	دهگان	صدگان
7	5	4



یکان	دهگان	صدگان
4	5	2

به عدد:

به حروف:

۲۳۴

دویست و سی و چهار

موفق باشید- قلعه سری